

Plusik

1 / 2006

GAZETKA MATEMATYCZNA

Zespołu Szkół nr 11 w Kaliszu

W

numerze:

1. Znajdź różnicę
2. Zapamiętaj!
3. Zagadka
4. Konkursy
5. Zadanie dla każdego
6. EkoPlusik
7. Dowcipy
8. Dodatek specjalny

WITAJCIE PO WAKACJACH



No to ruszamy z nową gazetką.

Każdy z Was znajdzie
w Plusiku coś dla siebie.

Udowodnimy, że matematyka jest
łatwa, ciekawa i wesoła.

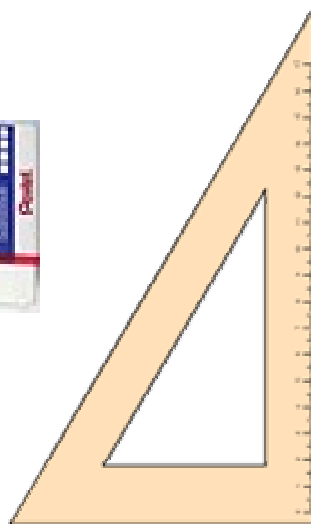
Zapraszamy do brania udziału w
konkursach,
czekają na was SUPER nagrody.

A TERAZ CZYTAJCIE I BAWCIE SIĘ!
POWODZENIA...

Na dobry początek znajdź 10 różnic



Zapamiętaj!



To przybory matematyczne, zawsze noś je w piórniku.
One ułatwią tobie pracę na matematyce!

UWAGA!!!

Ogłaszamy konkurs na Króla i Królową Tabliczki Mnożenia!

Zostały Wam jeszcze 2 miesiące na jej utrwalenie.

W Plusiku znajduje się dodatek specjalny

– na pewno się przyda.

Termin konkursu zostanie podany w następnym numerze Plusika.

Co to jest ?
hmm...

- jest między
cyframi krzesło, które
stoi do góry nogami.

PRAWDA, ŻE PROSTE ?

Uzupełnij puste pola...wiemy, że dasz radę !

1, 3, 5, __, 9, __, 13, 15, __, __, 21

Potrafisz korzystać z kalkulatora ? To do dzieła!!!

Oblicz, a potem pokoloruj pola z wynikami, w ten sposób dowiesz się jak nazywał się jeden z najslawniejszych matematyków.

- | | |
|-------------------|--------------------|
| 1) $632 \cdot 93$ | 6) $689 \cdot 45$ |
| 2) $546 \cdot 18$ | 7) $812 \cdot 63$ |
| 3) $627 \cdot 29$ | 8) $1214 \cdot 47$ |
| 4) $825 \cdot 37$ | 9) $263 \cdot 51$ |
| 5) $947 \cdot 77$ | |

58776	9828	9829	18183	19183	30525
P	I	L	T	E	A


2952	69919	72919	30205	31005	32095
M	A	G	S	O	K

51156	57058	56058	13513	13413
R	A	T	A	S

EKO PLUSIK

Czy wiesz, że... porzucone butelki są niebezpiecznym śmieciem. Pozostawiona butelka może wywołać pożar, a potłuczone szkło może pokaleczyć. A przecież większość szklanych butelek można sprzedać i dzięki temu zaoszczędzić pieniądze.

ODDAJĄC DO SKUPU BUTELKI, OSZCZĘDZASZ ŚRODOWISKO I PIENIĄDZE.



Przypominam, że już niedługo akcja „Sprzątania Świata” !

Kolega pyta kolegę:

- I jak było po zakończeniu roku?
- Eeeee, dwa razy dostałem lanie od ojca..
- Dlaczego aż dwa ?
- Pierwszy raz jak zobaczył świadectwo, a drugi jak się połapał, że to jego.

hihihi ☺ hehehe ☺



- Krysiu - pyta nauczycielka matematyki - jak podzieliłabyś cztery ziemniaki między pięciu harcerzy?
- Zrobiłabym sałatkę ziemniaczaną

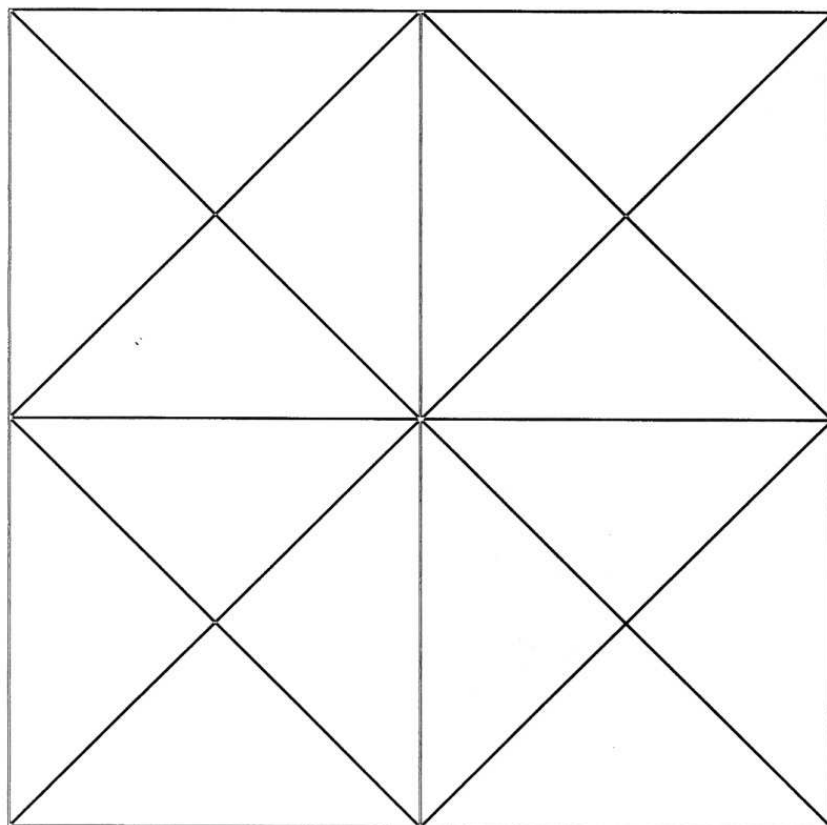
ZADANIE KONKURSOWE NR 1

Rozwiąż je - wpisz odpowiedź - podpisz się – wytnij ramkę z odpowiedzią - wrzuć rozwiązanie do Magicznej Skrzynki Plusika w sali 303.

Przed feriami zimowymi odbędzie się losowanie nagród. Czeka na Was wiele niespodzianek.

Powodzenia...

Ile jest na rysunku kwadratów, a ile trójkątów ?



Na rysunku jest: kwadratów
..... trójkątów

Imię

Nazwisko

Klasa

Gazetkę matematyczną "Plusik" opracowali:
uczniowie z kółka matematycznego pod kierunkiem
mgr Joanny Różyckiej