

Plusik

2 / 2006

GAZETKA MATEMATYCZNA

Zespołu Szkół nr 11 w Kaliszu

W numerze:

1. Znajdź różnice
2. Zapamiętaj!
3. Zagadki
4. Konkurs
5. Zadanie dla każdego
6. EkoPlusik
7. Dowcip
8. Dodatek specjalny

To już drugi NUMER ☺

ŚWIETNIE PORADZILIŚCIE SOBIE Z

POPZEDNIMI ZADANIAMI I ZAGADKAMI.

Przypominam o Konkursie na Króla i Królową tabliczki mnożenia !

Grudzień zbliża się wielkimi krokami, ale macie jeszcze czas, więc do roboty.

Miłej zabawy!!!

Na dobry początek znajdź 10 różnic



Zapamiętaj!

$13 + 20 = 33$

↓ ↓ ↓
SKŁADNIKI

↓
SUMA

$85 - 40 = 45$

↓
ODJEMNA

↓
ODJEMNIK

↓
RÓŻNICA

$7 \cdot 8 = 56$

8

↓ ↓
CZYNNIKI

↓
ILOCZYN

$24 : 3 =$

↓
DZIELNA

↓
DZIELNIK

↓
ILORAZ

56456435645645784545856783561863567456735674585634645786708546245667968806724523465685678

Jeżeli przypomnieliście już sobie, to napiszcie i obliczcie:

różnica liczb 146 i 85.....

iloraz liczb 81 i 9.....

suma liczb 320 i 147.....

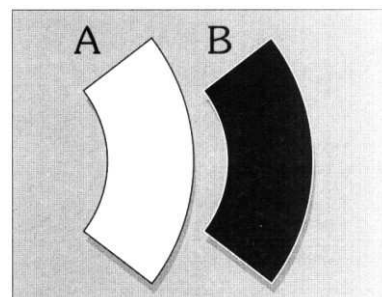
iloczyn liczb 15 i 4.....

Co to jest ? hmm...

W szklanej rurce cienki pręcik, błyska sobie blaskiem rtęci. To wydłuża się, to skraca i to cała jego praca.


Zna go każdy z Was, odmierza nam czas.

Która z figur jest większa ?



Uzupełnij puste pola...wiemy, że dasz radę !

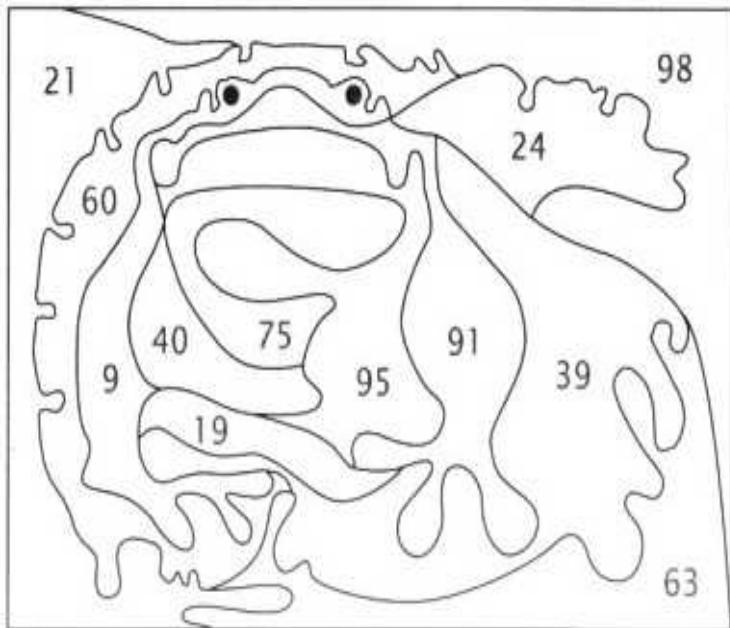
2, 4, __, __, 10, 12, __, __, __, __, __, 24



Zadanie dla każdego.

Pokoloruj rysunek.

czerwony	zielony
$12 \cdot 2$	$54 : 6$
$4 \cdot 15$	$13 \cdot 7$
$3 \cdot 13$	$38 : 2$
żółty	niebieski
$80 : 2$	$7 \cdot 14$
$25 \cdot 3$	$63 : 3$
$19 \cdot 5$	$9 \cdot 7$



EKO PLUSIK

Czy wiesz, że... do oddychania niezbędny jest tlen. Tlen wydzielany jest przez rośliny zielone, czyli drzewa, krzewy, trawy. Zwłaszcza duże rozłożyste drzewa są bardzo pożyteczne. Obliczono, że jeden 100-letni buk wydziela tyle tlenu, co 1700 młodych buków. Jedna 60-letnia sosna wydziela w ciągu jednego dnia tyle tlenu, ile dziennie potrzeba dla trzech osób.
PAMIĘTAJ, ZŁAMANIE GAŁĘZI MOŻE SPOWODOWAĆ USCHNIĘCIE DRZEWA!!!



Nauczycielka na lekcji matematyki:



- od dziś będziemy liczyli na komputerach.
- HUURAAA! To świetnie! – cieszą się dzieci.
- no to kto mi powie ile to będzie 5 komputerów dodać 12 komputerów ?...

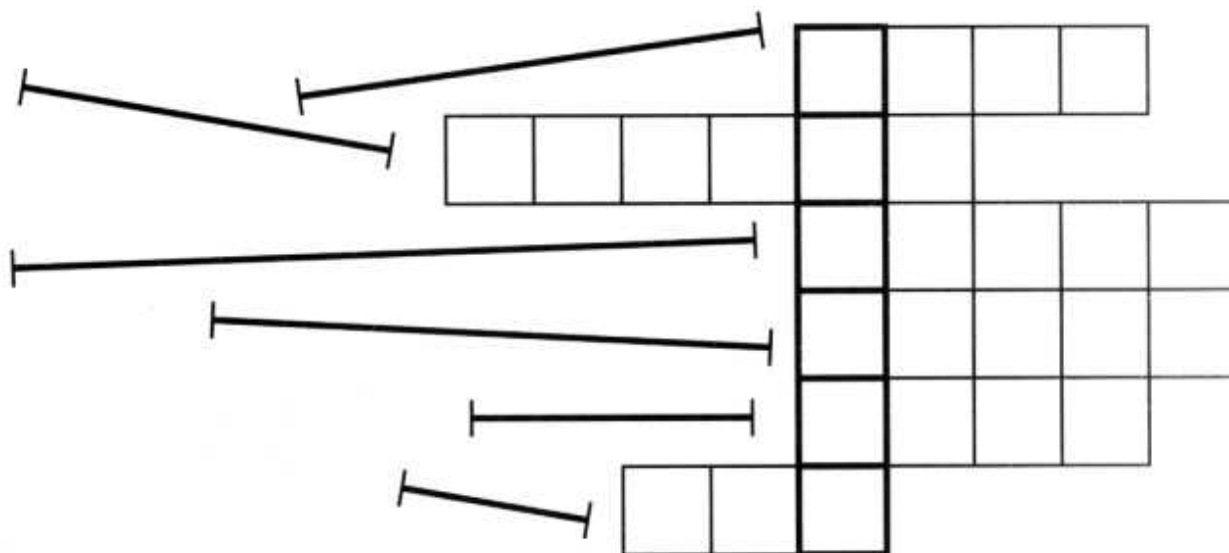
ZADANIE KONKURSOWE NR 2

Rozwiąż je - wpisz odpowiedź - podpisz się – wytnij ramkę z odpowiedzią - wrzuć rozwiązanie do Magicznej Skrzynki Plusika w sali 303.

Przed feriami zimowymi odbędzie się losowanie nagród. Czeka na Was wiele niespodzianek.

Powodzenia...

Zmierz linijką, ile centymetrów długości ma każdy odcinek.
Wyniki wpisz słownie w kratki krzyżówki. Jeśli odczytasz hasło, dowiesz się, częścią czego jest odcinek.



Hasło

Imię

Nazwisko

Klasa

Gazetkę matematyczną "Plusik" opracowali:
uczniowie z kółka matematycznego pod kierunkiem
mgr Joanny Różyckiej