

W numerze:

1. Znajdź różnice
2. Zapamiętaj!
3. Zagadki
4. Konkurs
5. Zadanie dla każdego
6. EkoPlusik
7. Dowcip
8. Dodatek specjalny



PRZYPOMINAM, ŻE ZBLIŻA SIĘ
KONKURS NA KRÓLA I KRÓLOWĄ

TABLICZKI MNOŻENIA

Wszystkich chętnych zapraszam
27 listopada (poniedziałek)
o godz. 13:20 do Sali 303

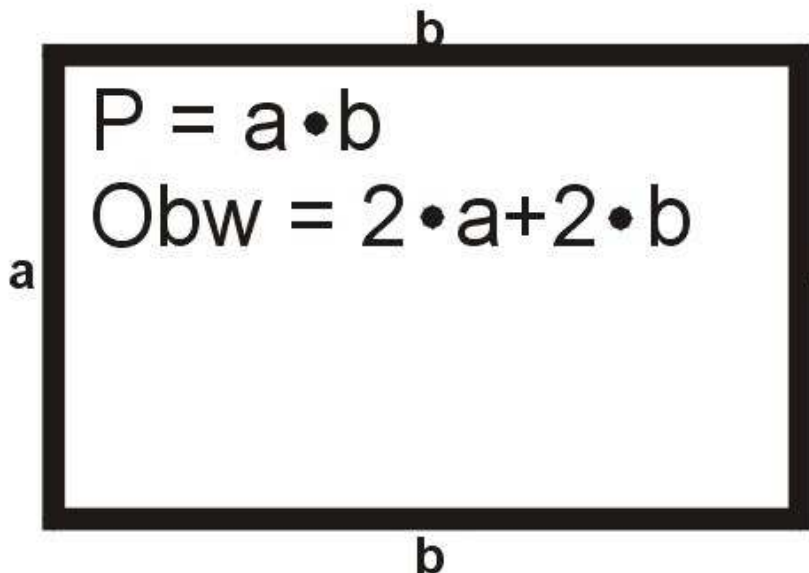
Zapraszam !!!

Na dobry początek znajdź 10 różnic

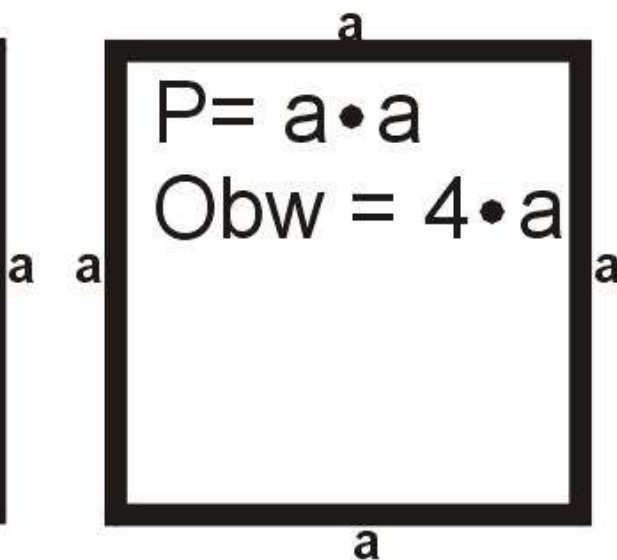


ZAPAMIĘTAJ!

Prostokąt



Kwadrat



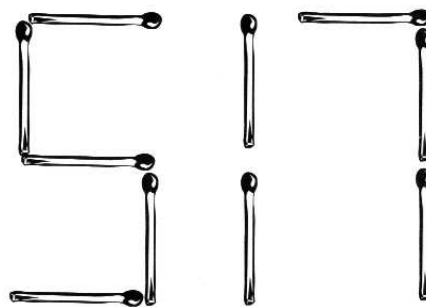
**Pole figur geometrycznych mierzymy
w jednostkach kwadratowych np: mm^2 , cm^2 , m^2**

56456435645645784545856783561863567456735674585634645786708546245667868806724523465685678

Co to jest ? hmm...


Mam dwie zgrabne nóżki, chodzę po papierze.
Chcesz nakreślić kółko ? Zaraz je wymierzę!

Jaki wyraz kryje się w
liczbie 517 ?



Uzupełnij puste pola....wiem, że dasz radę !

7, 14, __, __, 35, 42, __, __, __, __, __, 84



Zadanie dla każdego.

Wykonaj podane działania, wpisz w kratki odpowiadające wynikom litery, a otrzymasz hasło...

$6+5$	$6+3$	$6+5$	$6+2$	$9+6$
<input type="text"/>	I	<input type="text"/>	<input type="text"/>	Z
$12-6$	$6+7$	$4+6$	$6+6$	
G	<input type="text"/>	Z	Y	<input type="text"/>
$6+0$	$13-6$	$9+6$	$6+9$	
T	<input type="text"/>	U	<input type="text"/>	A
6	10	12	11	8
R	O	W	N	S
15	13	9	7	
C	B	E	J	

Hasło:

EKO PLUSIK

Czy wiesz, że... Pożyteczne są nawet grzyby trujące dla człowieka, gdyż stanowią pokarm dla niektórych zwierząt, a niektóre rośliny nie mogą bez nich żyć.
NIE NISZCZ ICH!



Hehehe, hahaha, hihhi

Matematik na lekcji do Jasia:

- Jasiu, jeżeli twój brat ma pięć bananów, a ty mu weźmiesz dwa to jaki będzie rezultat ?
- To on mnie zbije, proszę pana!



Ojciec pyta syna:


- Dlaczego nie powiedziałeś, że dostałeś jedynkę z matematyki ?
- Uczę się dotrzymywać tajemnicy tato.

ZADANIE KONKURSOWE NR 3

Rozwiąż je - wpisz odpowiedź - podpisz się – wytnij ramkę z odpowiedzią - wrzuć rozwiązanie do Magicznej skrzynki Plusika w sali 303.

Przed feriami zimowymi odbędzie się losowanie nagród. Czeka na Was wiele niespodzianek. Powodzenia...

Każda szkatułka zawiera sumę monet ze szkatulek stojących poniżej,
np: $10 + 8 = 18$
Oblicz, ile monet znajduje się w szkatułce stojącej najwyżej.



Wynik

Imię

Nazwisko

Klasa

Gazetkę matematyczną "Plusik" opracowali:
uczniowie z kółka matematycznego pod kierunkiem
mgr Joanny Różyckiej