
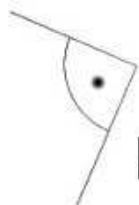



ZAPAMIĘTAJ!



kąt ostry



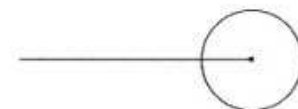
kąt prosty



kąt rozwarty



kąt półpełny



kąt pełny

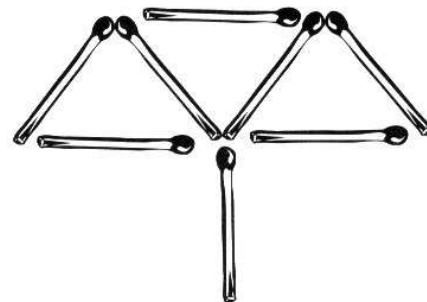
Zmierz podane kąty

56456435645645784545856783561863567456735674585634645786708546245667968806

Co to jest ? hmm...


My wszystkiego mamy trzy. Ach jak wesoło mieć trzy boki i trzy kąty. Trzy wierzchołki także mamy i pracując na trzy fronty, każdej pracy radę damy.

Przełóż tylko 2 zapałki, tak aby powstał ludzik...




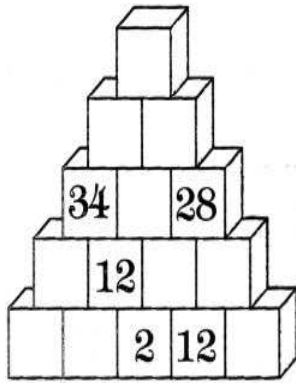
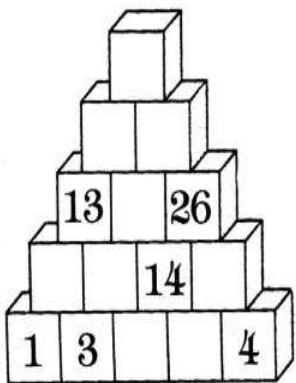
Uzupełnij puste pola....wiem, że dasz radę !

___, 18, 27, ___, 45, ___, ___, ___, ___, ___, ___, ___



Zadanie dla każdego.

Uzupełnij liczby na piramidzie tak, aby ich suma z dwóch dolnych klocków znalazła się na klocku leżącym nad nim.



EKO PLUSIK

Czy wiesz, że... Zimą zwierzętom bardzo trudno zdobyć pokarm. Często jest on dla nich niedostępny, gdyż leży głęboko pod śniegiem lub pod warstwą lodu. Bez jedzenia wiele zwierząt nie przetrwa zimy, niektórym możemy pomóc przez dokarmianie.



Gdy jest zima, nie zapomnij dokarmiać ptaków!

Hehehe, hahaha, hihih

Po klasówce z matematyki:

- Ile zrobiłeś zadań?
- Ani jednego, a Ty?
- Też ani jednego. I pani znowu powie, że ściągałiśmy od siebie!



- Kysiu - pyta nauczycielka matematyki - jak podzieliłabyś cztery ziemniaki między pięciu harcerzy?
- Zrobiłabym sałatkę ziemniaczaną!

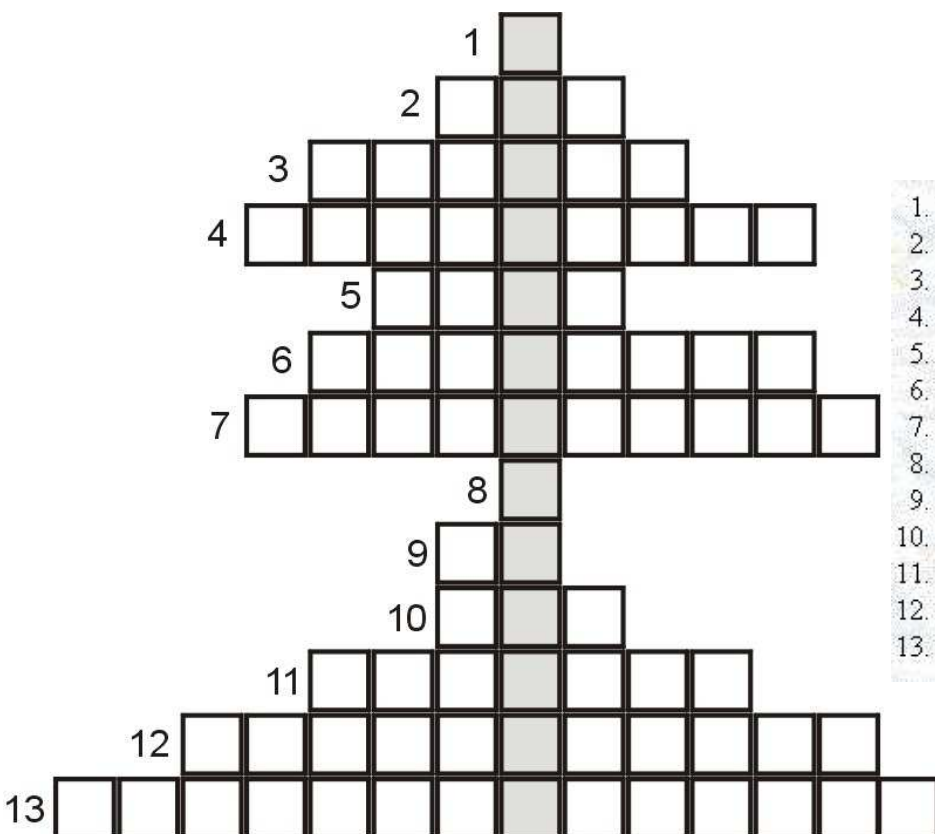
ZADANIE KONKURSOWE NR 4

Rozwiąż je - wpisz odpowiedź - podpisz się – wytnij ramkę z odpowiedzią - wrzuć rozwiązanie do Magicznej Skrzynki Plusika w sali 303.

Przed feriami zimowymi odbędzie się losowanie nagród. Czeka na Was wiele niespodzianek.

Powodzenia...

Rozwiąż świąteczną krzyżówkę ☺



1. W
2. litera oznaczająca zwykle trzecią niewiadomą
3. tylko jedną można poprowadzić przez dwa punkty
4. figura trójwymiarowa, której ściany boczne są trójkątami
5. podstawa walca
6. wzór do naśladowania; dawać komuś dobry ...
7. jedynka z sześćdziesięcioma sześcioma zerami
8. oznaczenie wysokości
9. obrotu lub symetrii
10. najmniejsza liczba pierwsza
11. ma dwa końce
12. obliczona poprawnie wartość niewiadomej to równania
13. do tej rodziny należy i prostopadłościan i sześcián



Hasło

Imię

Nazwisko

Klasa

Gazetkę matematyczną "Plusik" opracowali:
uczniowie z kółka matematycznego pod kierunkiem
mgr Joanny Różyckiej